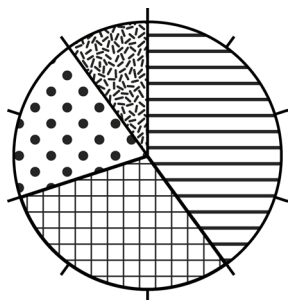








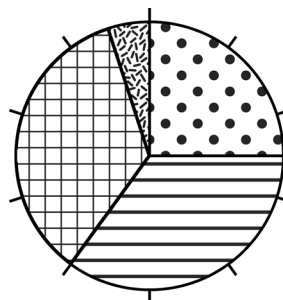
Onder West-Indië of De West, verstond men vroeger delen van Midden-Amerika, het huidige Caraïbisch gebied en de koloniën in het noordelijke deel van Zuid- of Latijns-Amerika. De naam West-Indië, of De West, stamt uit de tijd dat Christoffel Columbus dacht dat hij Indië had bereikt via de westelijke route. De Amerika's werden later ook wel de Nieuwe Wereld genoemd, als tegenhanger van de Oude Wereld (Europa, Afrika en Azië).





1 Cirkeldiagram

Vul in, hoeveel procent:



-  matroos %
-  bootsman %
-  jongen %
-  kok %



-  matroos %
-  bootsman %
-  jongen %
-  kok %


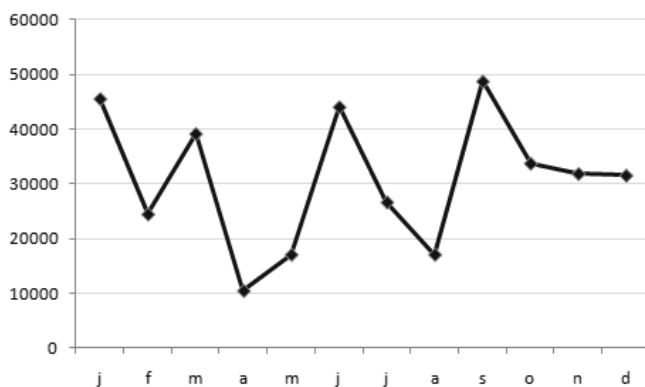
2 Grafiek lezen

Wat betekenen de letters onderaan de grafiek?

Wat valt je op aan de lijn?


Denkvraag:

Wat zou hier weergegeven kunnen zijn?



③ Zelf een grafiek maken

Verzin een onderwerp waarover je een grafiek wil maken; bijvoorbeeld in welke maand zijn de meeste jarigen? Welk huisdier is favoriet? Hoeveel zakgeld krijgen we gemiddeld? Verzamel gegevens voor een grafiek en maak een lijn of staafgrafiek.



④ Zeemijl

In de scheepvaart wordt de zeemijl gebruikt om een afstand te meten. Een zeemijl is gelijk aan 1852 meter.

Tijdens de oversteek over de Atlantische Oceaan legde het schip 4652 mijl af, hoeveel kilometer is dit ongeveer?

.....
Per dag legde het schip 79 mijl af, hoeveel kilometer is dit?

Tip: gebruik het kladblaadje hiernaast. →

